

Portugal, Sepanyol, Belanda, Britain, Perancis dan Amerika Syarikat menjalankan dasar imperialisme di Asia Tenggara.

1. Apakah tujuan dasar imperialisme Barat pada awalnya?

- A. Meluaskan kepentingan peribadi mereka
- B. Meluaskan pengaruh dan kuasa mereka
- C. Menguasai kepentingan perdagangan rempah
- D. Mendapatkan bahan mentah seperti bijih timah

2. Mengapakah imperialis Barat berminat untuk menguasai Asia Tenggara?

- I. Keluasan pasaran
  - II. Kedudukan strategik
  - III. Ketinggian taraf hidup
  - IV. Kepelbagaian kebudayaan
- A. I dan II
  - B. I dan IV
  - C. II dan III
  - D. III dan IV

3. Jadual di bawah merujuk kepada keluaran Asia Tenggara pada awal abad ke-18.

Negara	Sumber Utama
Tanah Melayu	Bijih timah
Indonesia	Bijih timah
Filipina	Y dan Z

Y dan Z merujuk kepada...

- A. damar dan kina.
- B. tebu dan kelapa.
- C. abaka dan getah.
- D. kelapa dan tembakau.

4. Rajah di bawah adalah slogan penjajah Barat di Timur.

Slogan	Kuasa
Beban Orang Putih	British
X	Perancis

X ialah...

- A. Asia untuk orang Asia
- B. Asia tanggungjawab Barat
- C. tugas menyebarkan tamadun
- D. agama tanggungjawab bersama

5. Antara berikut yang manakah berkaitan dengan pentadbiran birokrasi Barat di Asia Tenggara?

- I. Kedudukan pemimpin setempat dikekalkan
  - II. Pemimpin setempat berkuasa memungut cukai
  - III. Jabatan kerajaan diketuai oleh pegawai Barat
  - IV. Undang-undang Barat digunakan secara meluas
- A. I, II dan III
  - B. I, II dan IV
  - C. I, III dan IV
  - D. II, III dan IV

6. Rajah di bawah merujuk kepada sistem pentadbiran yang diperkenalkan oleh pemerintah Sepanyol di Filipina.



X yang merupakan pemerintah tertinggi di peringkat pusat merujuk kepada...

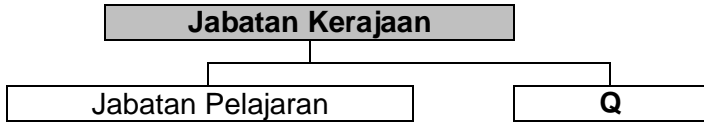
- A. Residen Jeneral
- B. Gabenor Jeneral
- C. Leftenan Gabenor
- D. Pesuruhjaya Tinggi

Sistem Encomienda telah diperkenalkan oleh Sepanyol di Filipina.

7. Antara berikut yang manakah berkaitan dengan sistem di atas?

- I. Mengutip cukai
  - II. Menjaga keamanan
  - III. Menasihati pemerintahan
  - IV. Mengkristiankan penduduk
- A. I, II dan III
  - B. I, II dan IV
  - C. I, III dan IV
  - D. II, III dan IV

8. Rajah di bawah merujuk kepada perubahan di Indonesia semasa pemerintahan Belanda.



Jabatan Q ialah..

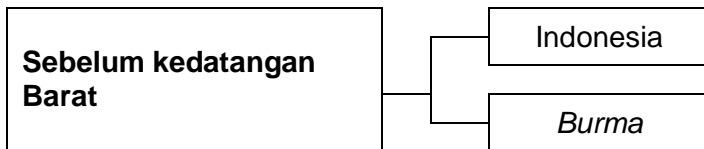
- A. Pelajaran.
- B. Kesihatan.
- C. Kehakiman.
- D. Perundangan.

9. Pernyataan di bawah menggambarkan peristiwa penubuhan Volksraad di Indonesia.

Hasil sekatan Sarekat Islam menyebabkan penjajah Belanda menubuhkan Majlis Rakyat (Volksraad) di Indonesia

Apakah kepentingan majlis tersebut?

- A. Penyeragaman sistem ekonomi
- B. Peningkatan taraf hidup rakyat
- C. Penubuhan parti politik radikal
- D. Persediaan ke arah kemerdekaan



10. Apakah persamaan antara Indonesia dengan Burma sebelum kedatangan Barat?

- I. Diketuai oleh raja
- II. Raja dibantu oleh pembesar
- III. Pentadbiran pusat diketuai oleh Gabenor Jeneral
- IV. Pembahagian negeri kepada wilayah-wilayah tertentu

- A. I dan II
- B. II dan III
- C. III dan IV
- D. I dan IV

11. Antara yang berikut, yang manakah menjelaskan tentang *Union Indochinoise*?

- I. Diketuai oleh Gabenor Jeneral
- II. Merupakan Persekutuan Indo-China
- III. Terdiri daripada Vietnam dan Kemboja
- IV. Dikuasai oleh golongan pembesar tempatan

- A. I, II dan III
- B. I, II dan IV
- C. I, III dan IV
- D. II, III dan IV

12. Jadual di bawah merujuk kepada kesan penguasaan British ke atas golongan agama di Burma

Peristiwa	Kesan
Penguasaan British	Pengaruh golongan agama Buddha merosot

Mengapakah pengaruh golongan tersebut merosot pada zaman penjajahan British?

- A. Penubuhan kerajaan pusat
- B. Pengenalan undang-undang Barat
- C. Penyeragaman sistem pemerintahan
- D. Pengukuhan jawatan pembesar tradisional

13. Senarai di bawah merujuk kepada akta-akta yang diperkenalkan oleh penjajah British di Burma.

- Akta Kampung Ulu Burma 1887
- Akta Perkampungan Burma 1889

Apakah implikasi daripada pengenalan akta tersebut?

- A. Budaya tempatan terhapus
- B. Aktiviti keagamaan disekat
- C. Penduduk tempatan ditindas
- D. Sistem pentadbiran tradisional lenyap

Terdapat persamaan pemilihan golongan Mandarin dalam birokrasi di Vietnam dengan sistem pentadbiran Tanah Besar China.

14. Merujuk pernyataan di atas, pemilihan tersebut dibuat berdasarkan

- A. pungutan suara rakyat
- B. pencapaian dalam peperiksaan
- C. pelantikan oleh Gabenor Jeneral
- D. pencalonan oleh pembesar tempatan

15. Raja Chulalongkorn telah memperkenalkan sistem birokrasi Barat dalam pentadbiran Thailand. Antara berikut, yang manakah merupakan perubahan tersebut?

- I. Mengasaskan Kabinet Menteri
- II. Membawa masuk guru luar
- III. Mewujudkan sistem raja berperlembagaan
- IV. Memperkenalkan Majlis Mesyuarat Tertinggi

- A. I dan II
- B. I dan IV
- C. II dan III
- D. III dan IV

16. Senarai di bawah merujuk kepada karya-karya kesusasteraan di Asia Tenggara.

- *Noli Me Tangere*
- *Ke Makam Bonda*
- *Putera Gunung Tahan*

Andainya anda adalah penulis karya di atas, apakah mesej yang ingin anda sampaikan?

- A. Pergaulan bebas
- B. Kemajuan teknologi
- C. Penindasan penjajah
- D. Kepentingan pendidikan

17. Senarai di bawah merujuk kepada sistem pendidikan semasa penjajahan British di Burma

- Pendidikan sekular
- Pendidikan mubaligh

Apakah implikasi daripada pengenalan sistem pendidikan tersebut?

- A. Kemerosotan sekolah Buddha
- B. Perkembangan ekonomi Barat
- C. Kewujudan sekolah vernakular
- D. Peningkatan peluang pekerjaan

18. Maklumat di bawah menerangkan **X** yang mendorong kebangkitan semangat nasionalisme penduduk Asia Tenggara.

#### Peristiwa X

Negara-negara di Asia Tenggara mula yakin bahawa mereka mampu mengalahkan kuasa Barat

Peristiwa **X** yang dimaksudkan ialah...

- A. kelahiran intelektual berpendidikan Barat.
- B. kemunculan gerakan nasionalisme di India.
- C. kejayaan Jepun mengalahkan China dan Russia.
- D. kemampuan pengekal kemerdekaan di Thailand.

19. Antara berikut yang manakah ciri-ciri persamaan gerakan nasionalisme peringkat awal di Asia Tenggara?

- I. Perjuangan secara militan
  - II. Membentuk organisasi politik
  - III. Mengutamakan isu kebudayaan
  - IV. Golongan intelek menjadi pemimpin
- A. I dan II
  - B. II dan III
  - C. III dan IV
  - D. I dan IV

20. Apakah matlamat golongan nasionalis di Asia Tenggara pada tahap kedua?

- I. Memajukan kegiatan ekonomi
  - II. Menimbulkan kesedaran politik
  - III. Menyebarkan ilmu pengetahuan
  - IV. Membebaskan diri daripada penjajah
- A. I dan II
  - B. II dan III
  - C. III dan IV
  - D. I dan IV

21. Pernyataan di bawah menggambarkan gerakan nasionalisme Tahap Kedua di Asia Tenggara.

Pada Tahap Kedua, pemimpin-pemimpin gerakan nasionalisme mempunyai matlamat yang lebih jelas.

Matlamat perjuangan pada tahap tersebut ialah...

- A. Membentuk kerajaan sendiri.
- B. Mengembalikan institusi beraja.
- C. Memajukan pendidikan tempatan.
- D. Mempergiatkan ekonomi tradisional

22. Apakah tindakan Jose Rizal setelah gerakan dakyah gagal mencapai matlamatnya?

- A. Menubuhkan Katipunan
- B. Membentuk Liga Filipina
- C. Melancarkan revolusi bersenjata
- D. Menyebar fahaman melalui akhbar

- Akta Kampung Ulu Burma 1887
- Akta Perkampungan Burma 1889

23. Apakah kesan pengenalan akta di atas kepada Burma?

- A. Pengukuhan kedudukan institusi beraja
- B. Peningkatan pengaruh golongan agama
- C. Penurunan pendapatan penduduk tempatan
- D. Penghapusan sistem pentadbiran tradisional

**Vietnam** —————> **Mandarin**

24. Bagaimanakah pegawai di atas dipilih?

- A. Peperiksaan
- B. Pemilihan rakyat
- C. Pelantikan maharaja
- D. Persetujuan golongan bangsawan

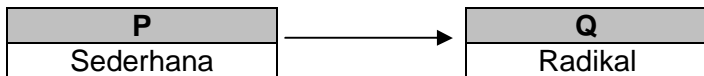
25. Jadual di bawah merujuk kepada sistem pendidikan di Indonesia pada awal abad ke-19.

Sistem	Pendidikan
Bandar	Anak golongan priyayi
Kampung	Anak orang kebanyakan

Mengapakah Belanda mengasingkan sistem pendidikan tersebut?

- A. Menghapuskan amalan tradisi pribumi
- B. Mengatasi kesukaran menyalurkan bantuan
- C. Menghalang penghijrahan penduduk ke bandar
- D. Memecahbelahkan perpaduan dalam kalangan rakyat

26. Rajah di bawah menggambarkan perubahan corak gerakan nasionalisme di Asia Tenggara.



Perubahan **P** ke **Q** adalah disebabkan...

- A. sekatan pengaruh luar
- B. perjuangan tidak berkesan
- C. kekurangan sumber kewangan
- D. sokongan pemerintah tempatan

Pemerintah Thai seperti Mongkut dan Chulalongkorn telah melaksanakan birokrasi Barat di negara mereka

27. Apakah kesan pembaharuan di atas terhadap Negara Thai?

- A. Persaingan kuasa asing
- B. Pemantapan kuasa raja
- C. Pengekalan kemerdekaan
- D. Pengusaan ekonomi oleh pembesar

28. Mengapakah kedatangan British ditentang oleh pemimpin setempat?

- I. Menguasai daerah mereka
  - II. Mengeksploitasi ekonomi tempatan
  - III. Menyelaraskan penggunaan mata wang
  - IV. Memperkenalkan sistem pentadbiran baru
- A. I, II dan III
  - B. I, II dan IV
  - C. I, III dan IV
  - D. II, III dan IV

29. Mengapakah Naning berjaya mengalahkan British pada tahun 1831?

- A. Menggunakan askar upahan
- B. Mempunyai tentera yang terlatih
- C. Membina kubu pertahanan yang kukuh
- D. Mendapat sokongan pembesar tempatan

30. Senarai di bawah merujuk kepada pemimpin penentangan di Tanah Melayu

- Rentap
- Dol Said
- Dato' Maharaja Lela

Mengapakah pemimpin tersebut menentang penjajahan British?

- I. Penghapusan sistem cukai
  - II. Pelaksanaan pendidikan vernakular
  - III. Pencabulan adat resam pribumi
  - IV. Pengeksploitasian ekonomi tempatan
- A. I dan II
  - B. I dan IV
  - C. II dan III
  - D. III dan IV

31. Jadual di bawah merujuk kepada peristiwa penentangan terhadap James Brooke di Sarawak.

<b>Tahun</b>	1849
<b>Tokoh</b>	Linggir
<b>Peristiwa</b>	Menyerang kapal <i>Nemesis</i> di Batang Lupar

Mengapakah tokoh tersebut bertindak demikian?

- A. Kubunya diserang
- B. Kebebasan belayarnya disekat
- C. Pencabulan adat tempatan
- D. Penduduk dipaksa membayar cukai perahu

32. Rajah di bawah merujuk kepada pemimpin penentangan di Sarawak.

<b>Tokoh X</b>
<ul style="list-style-type: none"><li>• Kehilangan kuasa memungut cukai.</li><li>• Menyerang kubu Brooke di Kanowit.</li><li>• Menyerang Brooke di Kuching.</li></ul>

Tokoh **X** ialah...

- A. Rentap.
- B. Linggir.
- C. Banting.
- D. Syarif Masahor.

33. Maklumat di bawah menggambarkan tindak balas Mat Salleh terhadap British.

Pada tahun 1897, Mat Salleh dan pengikutnya menyerang kubu SBBU di Pulau Gaya.

Apakah implikasi daripada peristiwa tersebut?

- A. SBBU berundur dari Sabah
- B. SBBU menyerahkan Tambunan
- C. SBBU mendapatkan bantuan luar
- D. SBBU menghapuskan sistem cukai

34. Maklumat di bawah menerangkan penentangan penduduk tempatan.

Penguasaan British terhadap Perak telah mendapat tentangan daripada penduduk tempatan yang dipimpin oleh Dato' Maharaja Lela.

Apakah faktor yang mendorong kepada penentangan tersebut?

- I. Pencabulan adat resam tempatan
  - II. Penghapusan hak mengutip cukai
  - III. Pengenal sistem ekonomi komersial
  - IV. Penguasaan terhadap pendidikan tempatan
- A. I dan II                      C. II dan III  
B. I dan IV                     D. III dan IV

35. Rajah di bawah merujuk kepada salah satu faktor yang membangkitkan penentangan penduduk tempatan terhadap British di Perak

#### Penentangan Penduduk Perak

Residen memungkirinya fungsinya sebagai penasihat seperti yang termaktub dalam Perjanjian X.

Perjanjian X merujuk kepada...

- A. Perjanjian Burney.
- B. Perjanjian Pangkor.
- C. Perjanjian Bangkok.
- D. Perjanjian Surat Kew.

36. Andaikan anda seorang pembesar tempatan di Pasir Salak, Perak semasa British memperkenalkan pentadbiran Barat.

Mengapakah anda menentang British?

- I. Hilang kawasan pegangan
  - II. Hak memungut cukai terhapus
  - III. Larangan memungut hasil hutan
  - IV. Campur tangan dalam adat resam
- A. I, II dan III                C. I, III dan IV  
B. I, II dan IV                D. II, III dan IV

37. Rajah di bawah merujuk kepada seorang pemimpin Pahang.

#### Tokoh X

- Orang Kaya Setia Perkasa Pahlawan Semantan.
- Mendapat perlindungan politik di Thailand.
- Meninggal dunia di Chiangmai.

Tokoh X ialah...

- A. Mat Kilau.
- B. Tok Gajah.
- C. Imam Rasul.
- D. Dato' Bahaman.

- Kuala Berang
- Kuala Telemong

38. Apakah persamaan di antara senarai di atas?

- A. Pusat pentadbiran British
- B. Wilayah terawal dikuasai British
- C. Kawasan berkumpul para nasionalis
- D. Tempat permulaan penentangan rakyat

39. Senarai di bawah merujuk kepada tokoh-tokoh pejuang yang menentang penjajahan British di negara kita.

- Tok Janggut
- Dato' Bahaman
- Abdul Rahman Limbong

Mengapakah perjuangan mereka perlu dicontohi?

- I. Sedia berkorban
  - II. Setia kepada negara
  - III. Semangat setiakawan
  - IV. Saling faham-memahami
- A. I dan II                      C. II dan III  
B. I dan IV                     D. III dan IV

#### Gerakan Pan-Islamisme

40. Antara berikut, pernyataan yang manakah berkaitan dengan gerakan di atas?

- I. Dipelopori oleh Syeikh Muhammad Abduh
  - II. Menyebarkan idea melalui majalah *al-Manar*
  - III. Memperjuangkan pembentukan kerajaan republik
  - IV. Dibubarkan pergerakannya pada awal abad ke-20
- A. I dan II                      C. II dan III  
B. I dan IV                     D. III dan IV